

Группа 42

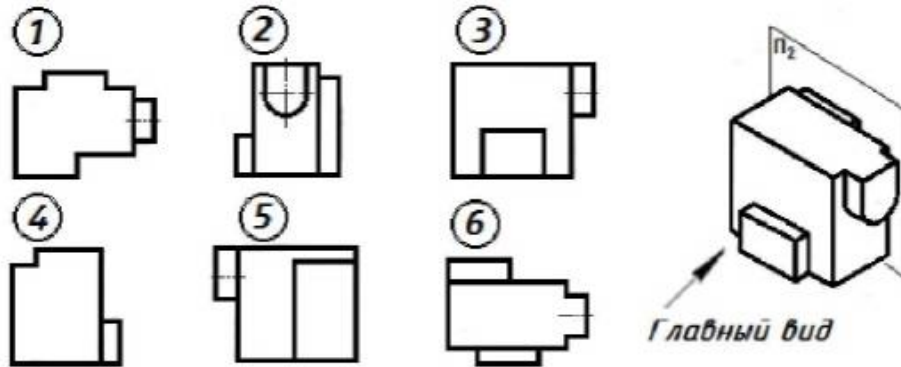
Дисциплина: Инженерная графика

Преподаватель: Комлева М.Н.

Задание: На формате а4 выполнить тестовые задания.

Тест на тему: «Изображения – виды, разрезы, сечения»

1 Установить соответствие:



По заданным видам определить название каждого вида согласно проекционной связи:

главный вид -

вид слева -

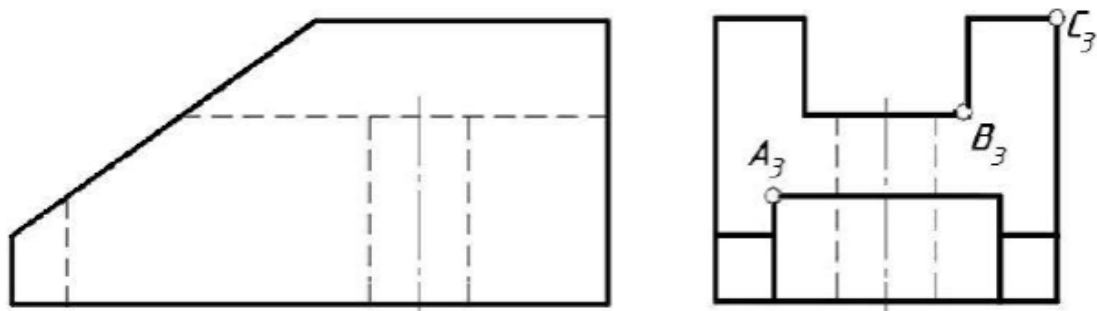
вид сверху -

вид справа -

вид сзади -

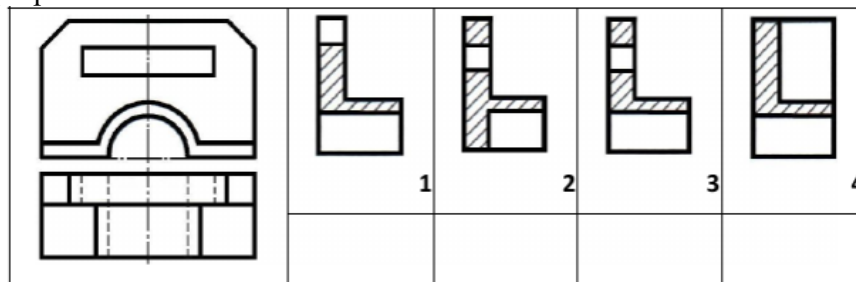
вид снизу -

2 По двум заданным видам построить вид сверху. На видах спереди и сверху построить и обозначить точки А, В и С, которые на виде слева являются видимыми.



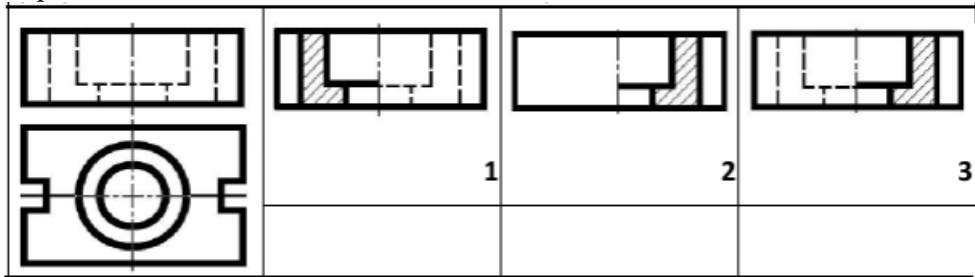
3 Указать правильный ответ:

Для комплексного чертежа данной детали указать изображение, где правильно выполнен профильный разрез



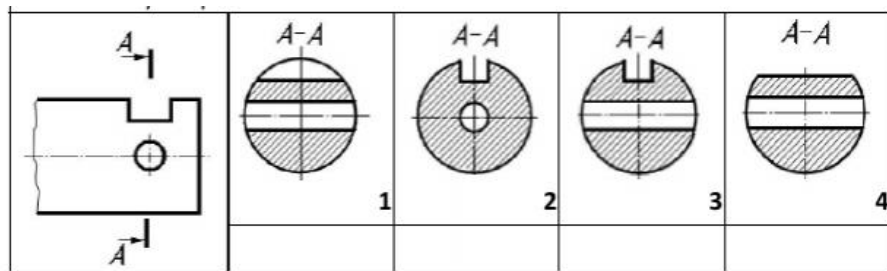
4 Указать правильный ответ:

Отметить чертёж, где соединение половины вида с половиной разреза для данной детали выполнено правильно



5 Указать правильный ответ:

Отметить чертёж, где данному изображению детали соответствует правильно выполненное сечение



17 Выполнить местный разрез на главном виде и вынесенные сечения указанными секущими плоскостями

